


# 1 La monnaie

Nom : \_\_\_\_\_

Date : vendredi 24 Avril

1 Calcule la somme de chaque ensemble de monnaie.



94 €

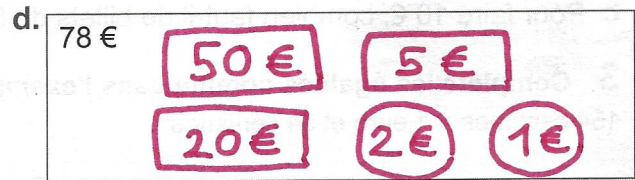
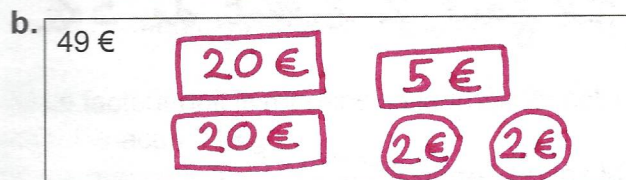




96 €

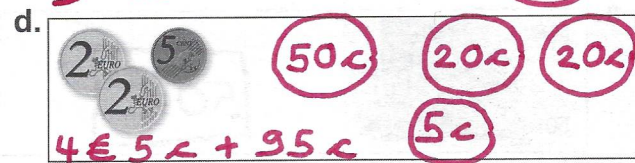
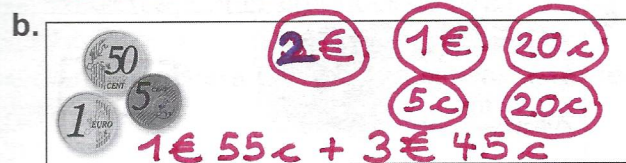
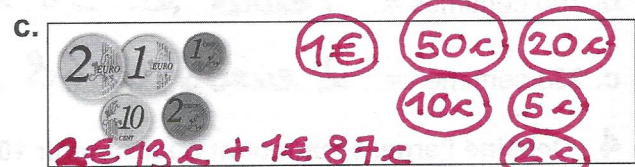
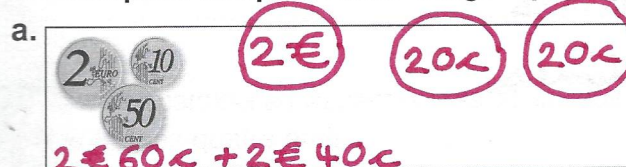


8 € 67 c

2 Dessine les sommes suivantes avec le moins de pièces et de billets possibles.



3 Complète chaque somme d'argent pour que cela fasse 5 €.



## PROBLÈME

4 Johanna peut-elle s'acheter ce ballon avec l'argent qu'elle a dans sa tirelire ?

Comptons: Johanna a  
9 € 65 c.  
Le ballon est à 9 € 90 c  
Entre 65 c et 90 c, il y a  
25 c. Donc Johanna ne  
peut pas s'acheter ce ballon  
car il lui manque 25 centimes.

