


Nom : _____ Date : Mercredi 29 Avril

Connaître les équivalences de monnaie

1 Calcule la somme de chaque ensemble de monnaie.




88€



12€ 50c

Calculer avec la monnaie

2 Complète chaque somme d'argent pour que cela fasse 10 €.



3 Rends la monnaie de ces achats avec le moins de pièces et de billets possibles. Dessine les billets et les pièces.

a. Un achat de 14 € pour lequel on a donné 20 €.


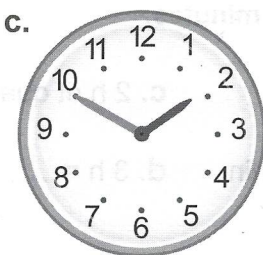


b. Un achat de 2 € 20 pour lequel on a donné 5 €.

5€ 1€

2€ 50c 20c 10c

Lire l'heure sur une montre à aiguilles

4 Pour chaque horloge, indique les heures du matin et les heures de l'après-midi.



3 h 20 min

6 h 15 min

1 h 50 min

11 h 05 min

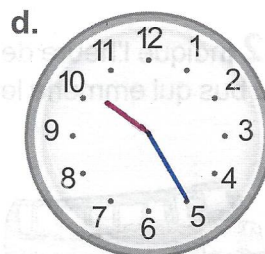
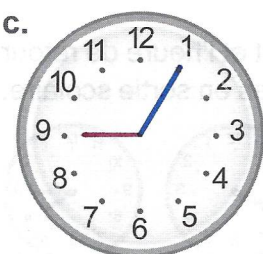
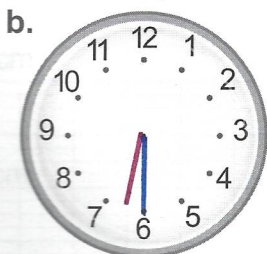

7 h 20 min

18 h 15 min

13 h 50 min

23 h 05 min

5 Place les aiguilles (une petite aiguille rouge pour les heures, une grande aiguille bleue pour les minutes) en fonction des heures indiquées.



3 h 45

6 h 30

9 h 05

10 h 25