





2 La lecture de l'heure

Nom : _____ Date : lundi 04 Mai

1 Relie chaque horloge à l'heure qu'elle indique.







7:45

6:00

9:15

4:30

2 Pour chaque horloge, indique l'heure.



1h30 ou 13h30 3h45 ou 15h45 7h10 ou 19h10 10h15 ou 22h15

3 Pour chaque horaire, indique sur quel nombre se trouve la petite aiguille.


a. 13 h : 1 b. 18 h : 6 c. 22 h : 10 d. 15 h : 3 e. 20 h : 8

4 Pour chaque horaire, indique sur quel nombre se trouve la grande aiguille.

a. 5 h 15 : 3 b. 3 h 30 : 6 c. 7 h 45 : 9 d. 1 h 20 : 4 e. 6 h 50 : 10

PROBLÈME

5 À quelle heure la course cycliste va-t-elle démarrer ?



La petite aiguille est entre le 12 et le 1. Il est donc midi passé. La grande aiguille est sur le 6, qui signifie 30 minutes. La course va donc démarrer à 12 h 30, soit midi et demi.