

Exercice 9

Jeudi 4 juin

Complète chaque colonne pour reconstituer les deux familles de mots.  
Entoure les intrus.

saler	dessaler	salir
dessaler	sale	sale
salant	salon	saleté
salière	salant	salement
	saleté	
	salement	
	salive	
	salière	

Trouve un mot de la même famille que le mot « jardin » : ...Jardinier

Trouve un mot de la même famille que le mot « saute » : ...Sauter

Exercice 10

Dans les phrases suivantes, souligne le sujet et entoure le verbe conjugué.

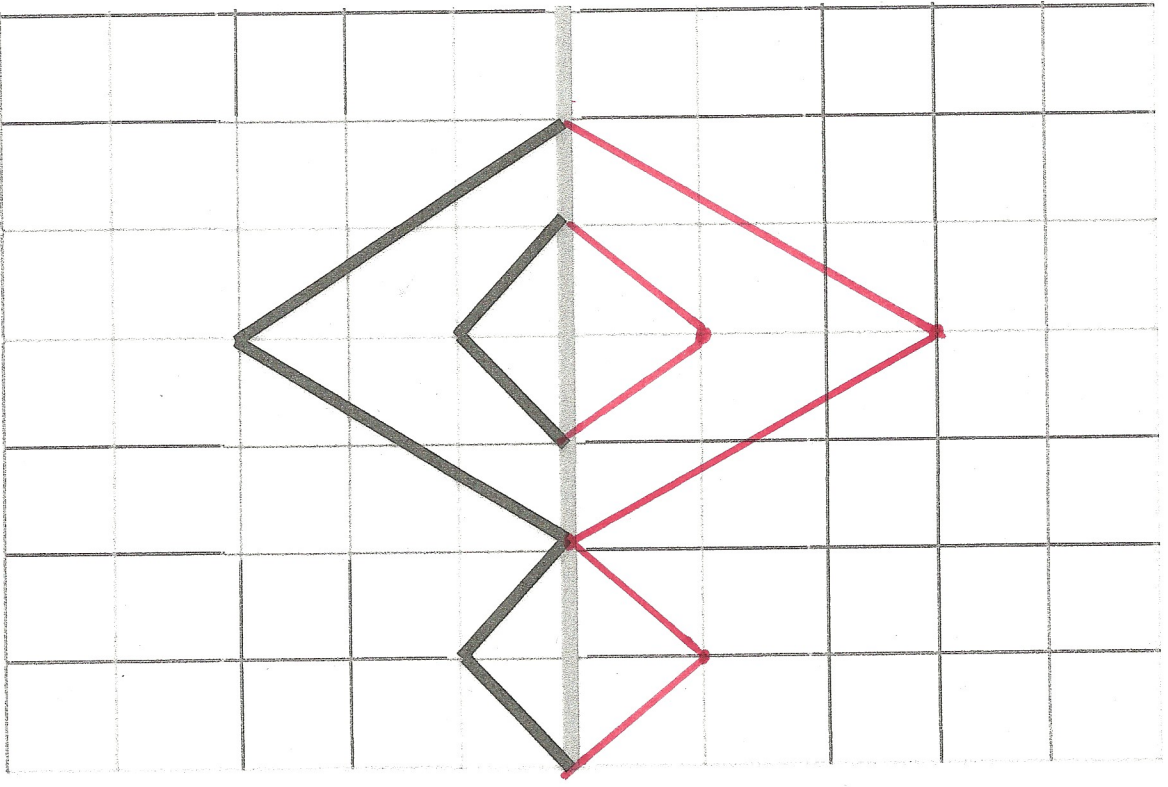
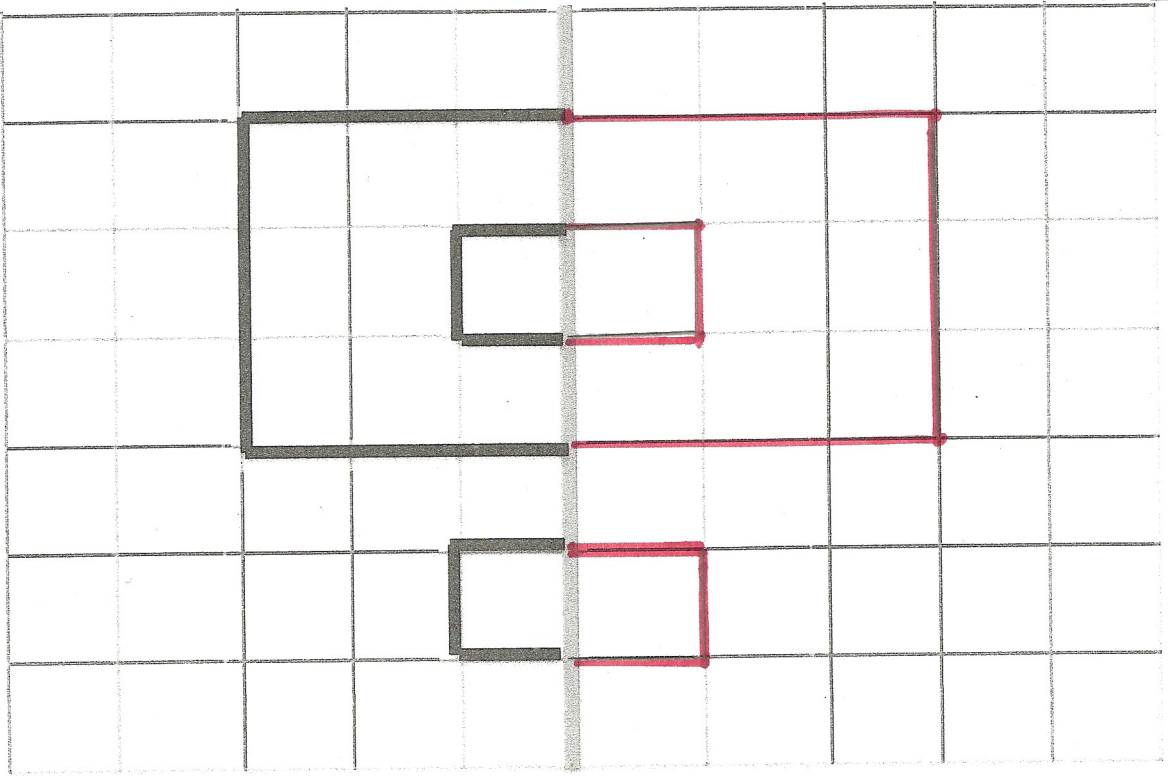

- Le seul livre appartenait à sa mère.
- A quatre ans, Matilda lisait couramment.
- Tu as tout de l'enfant gâtée.

Exercice 11

Dans les phrases suivantes, souligne le sujet et entoure le verbe conjugué et

donne son infinitif


- Tu réclames des bouquins. Réclamer
- On a une belle télé. avoir



# Vachement moi !

Emmanuel BOURDIER

## Chapitre 5



Nom : \_\_\_\_\_ Prénom : \_\_\_\_\_

Je lis les pages 33 à 39. Je peux garder mon livre ouvert pour répondre aux questions.

1) Où Paul a-t-il été installé pour la nuit ?

Il a été installé dans le gymnase.

2) Pourquoi Mr Darfeux a-t-il refusé que Paul rentre chez lui ?

Parce qu'il avait peur qu'il ne revienne pas pour sa dernière épreuve à l'aube.

3) Je colorie en bleu ce que Mr Darfeux a fait apporter à Paul et en orange ce que ses parents lui ont apporté.

son pyjama	une botte de foin	une demi-pizza	de l'eau fraîche
------------	-------------------	----------------	------------------

4) Paul essaie d'abord de prouver qu'il n'est pas une vache en montrant qu'il n'a pas de cornes. Que lui répondent les adultes ?

Qu'il n'a pas de corne parce qu'il est trop jeune.

5) Son 1<sup>er</sup> argument ayant été rejeté, Paul avance une 2<sup>nd</sup>e preuve : laquelle ?

"Je parle, je ris et je connais presque toutes mes tables de multiplications !"

6) Qu'en pense M<sup>me</sup> Juliotte, la maîtresse des moyens ?

Que c'est une vache qui a mangé de l'herbe transgénique.

7) Finalement, Paul va être confronté à Massacrotor... Qui est-ce ?

Massacrotor est un taureau.

8) Vrai ou faux ?

	Vrai	Faux
La 2 <sup>nd</sup> e nuit, Paul a un colocataire dans le gymnase.		X
L'ordinateur a affirmé que cet élève était une autruche.		X
Ce garçon sera lui aussi soumis à la même épreuve que Paul.		X

Jeudi 4 juin

Exercice 1

Écris en chiffre : sept-mille-cinq-cent-treize.

7 513

Écris les nombres en lettres en utilisant les mots (n'oublie pas les traits d'union) :

cent	huit	mille	soixante	sept	dix	neuf
------	------	-------	----------	------	-----	------

9 800 : neuf - mille - huit - cent

1 877 : mille - huit - cent - soixante - dix - sept

Exercice 2

Écris les nombres demandés.

La moitié de 20 : ..... 10 .....

La moitié de 50 : ..... 25 .....

Le quart de 100 : ..... 25 .....

Le double de 1 000 : ..... 2 000 .....

Le triple de 100 : ..... 300 .....

La moitié de 100 : ..... 50 .....

La moitié de 800 : ..... 400 .....

## Problèmes

J Dans un élevage de poules, on a rempli 178 plateaux de 24 œufs. **Combien cela fait-il d'œufs ?**

Tes calculs, ta recherche :

$$\begin{array}{r} 178 \\ \times 24 \\ \hline 712 \\ 3560 \\ \hline 4272 \end{array}$$

Ta réponse :

Cela fait 4272 œufs.

K Renaud a 28 € dans sa tirelire. Il a 4 fois plus d'argent que sa sœur Émilie. **Combien d'argent a Émilie ?**

Tes calculs, ta recherche :

$$28 \times 4 = 112$$

Ta réponse :

Émilie a 112€ dans sa tirelire.

L Voici les mesures des 3 côtés d'un champ triangulaire : 449 m, 587 m et 794 m. **Quel est le périmètre de ce champ ?**

Tes calculs, ta recherche :

$$449 + 587 + 794 = 1830$$

Ta réponse :

Le périmètre du champ est 1830m.