

3 Retrouve le texte qui correspond à chaque dessin et écris le numéro dans les pastilles.



5



4



1



3



2

1 La neige était abondante, les pistes étaient prêtes, le soleil illuminait les pistes de la montagne.

2 "Allez hop ! Je respire, je souffle dans l'eau, bien, bien, avec plein de bulles, je m'étire, et je reviens, je m'étire et je reviens, je respire, je souffle dans l'eau..."
Anne-Charlotte nage dans le couloir gauche. Elle avance vite, concentrée, avec ses lunettes de plongée.

3 Après une course de 70 kilomètres, il s'échappa du peloton. Malheureusement, une crevaison l'empêcha de remporter l'étape.

5 Mickaël est ceinture noire. Samedi après-midi, il a remporté la compétition. Le dernier combat contre Kévin fut très court. Kévin a déchiré son kimono.

4 Bruno envoya le ballon très haut, très haut au-dessus de la tête du gardien qui s'était avancé pour regarder tirer le penalty, et le ballon vint atterrir au fond des filets.

lundi 25 Mai

Poser des opérations (1)

C Pose et calcule

$465 + 33 + 856$

	0 4	0 6	5	
+	0	3	3	
+	8	5	6	
<hr/>				
	1	3	5	4

$868 + 1856$

		0	0	
	0	8	6	8
+	1	8	5	6
<hr/>				
	2	7	2	4

$862 - 719$

	8	6 ⁵	2	
-	7	1	9	
<hr/>				
	1	4	3	

$603 - 485$

	5	0 ⁹	3	
-	4	8	5	
<hr/>				
	1	1	8	

1) Souligne les verbes du 2^{ème} groupe au présent.

lissez - a rougi - atterrissons - saluez - disons - ris - posons - grandira -
marches - grossissent - réussit - agrandit - pliez - crions - tissons -

2) Récris les phrases suivantes au présent

Tu finiras tes devoirs. → Tu finis tes devoirs.
Elles ont grandi très vite. → Elles grandissent très vite.
Les pommes ont rougi. → Les pommes rougissent.
Le temps a fraîchi. → Le temps fraîchit.
Le cheval franchissait l'obstacle. → Le cheval franchit l'obstacle.
Le maître a puni un élève. → Le maître punit un élève.

3) Complète le tableau.

	faire	prendre	aller
Tu	Fais	Prends	vas
Je	Fais	Prends	vais
Ils	font	Prennent	vont
Nous	faisons	Preneons	allons
Vous	faites	prenez	allez
Elle	fait	Prend	va

4) Range les verbes suivants dans le tableau.

Vous punissez - tu viens - nous partons - Elles murissent - Je peux -

Vous saluez - nous voyons - il réussit -

2 ^{ème} groupe	3 ^{ème} groupe
Vous punissez	Tu viens
Elles murissent	nous partons
Vous saluez	je peux
Il réussit	nous voyons

Connaître et comprendre les nombres

A Complète les suites :

1505 1405 1305 1205 1105 1005 905 805

964 974 984 994 1004 1014 1024 1034

705 704 703 702 701 700 699 698

14367 15367 16367 17367 18367 19367 20367

B Range les nombres du plus petit au plus grand :

~~12300~~ ~~112103~~ ~~21300~~ ~~231~~
~~1230~~ ~~2300~~

231 1230 2300 12300 21300 112103

Mardi 25 mai

Conjugaison : l'infinitif

21

Infinitif

L Indique l'infinitif du verbe souligné.

Je prenais le train chaque matin.

Infinitif : prendre

Tristan dort profondément.

Infinitif : dormir

Il a rêvé qu'il découvrirait un trésor.

Infinitif : avoir rêvé

H Classe ces mots par ordre alphabétique.

lit

monsieur

vélo

monstre

vitre

maman

1

3

5

4

6

2

16

Ordre
alphabétique

Grammaire : la phrase

Transforme la phrase affirmative en phrase négative.

Théo a gagné la course.

Théo n'a pas gagné la course.

Récris la phrase en mettant au pluriel les GN soulignés :

Wong dessina un grand oiseau, un magnifique héron.

→ Wong dessina des grands oiseaux, des
magnifiques hérons.

Calcul mental

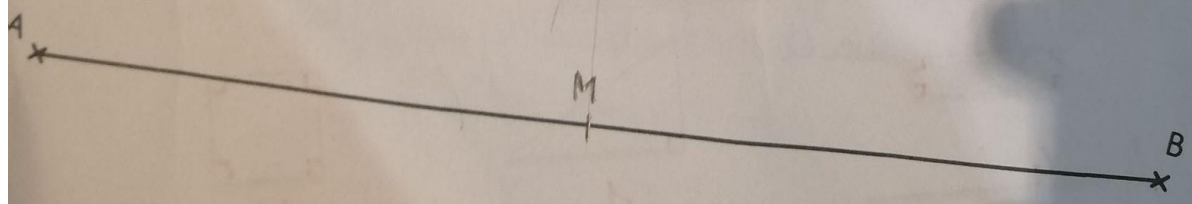
$3 \times 6 = 18$	$3 \times 3 = 9$	$6 \times 4 = 24$
$2 \times 1 = 2$	$4 \times 9 = 36$	$3 \times 7 = 21$
$5 \times 4 = 20$	$4 \times 5 = 20$	$4 \times 10 = 40$
$5 \times 8 = 40$	$5 \times 5 = 25$	$7 \times 4 = 28$
$7 \times 5 = 35$	$0 \times 3 = 0$	$3 \times 5 = 15$
$6 \times 2 = 12$	$10 \times 5 = 50$	$8 \times 3 = 24$

- 3 Complète.
- a. 95 min = 1 h 35 min
 - b. 52 h = 2 jours 4 h
 - c. 90 s = 1 min 30 s

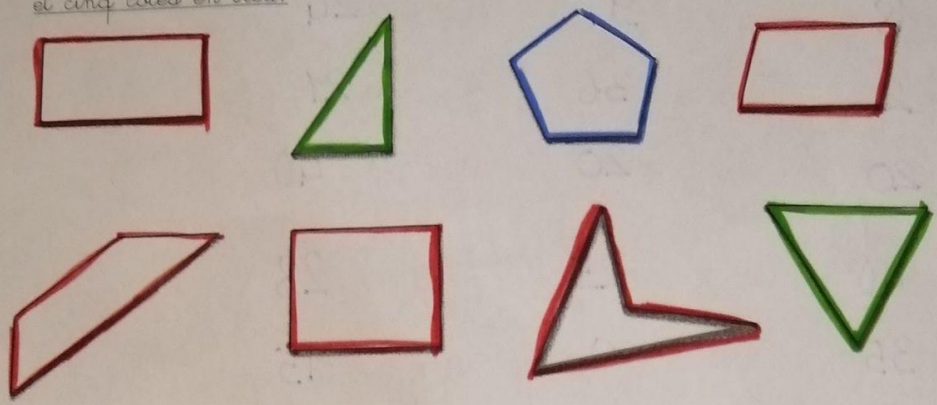
4 Colorie d'une même couleur les étiquettes qui indiquent la même durée.

1 jour 8 h	36 h	100 s	75 min
1 h 45 min	1 min 40 s	2 160 min	
1 h 15 min	32 h	105 min	

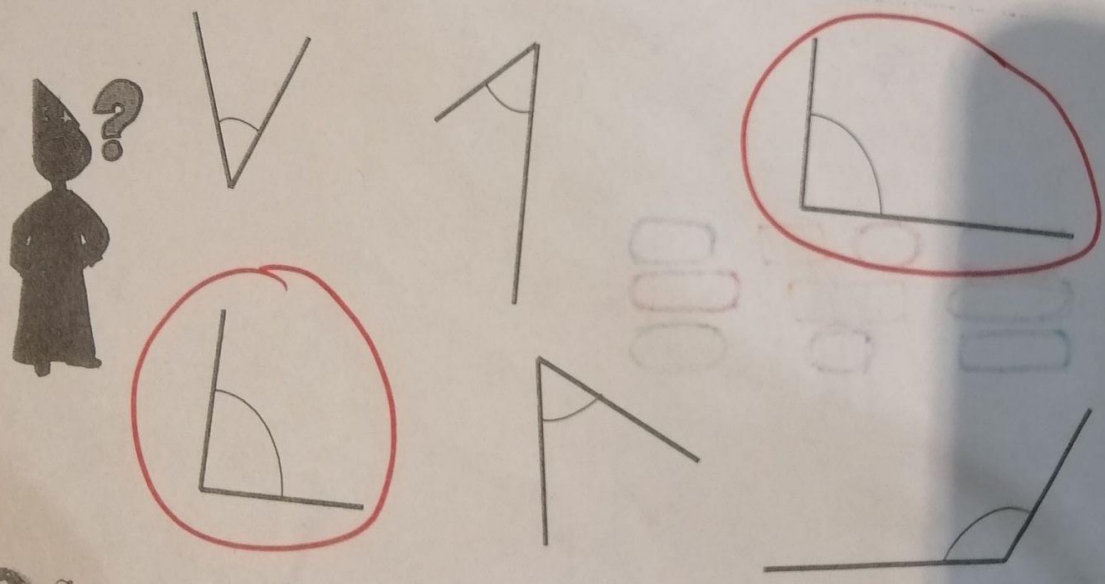
Place M milieu de [AB]



1 Colorie les formes qui ont trois côtés en vert, quatre côtés en rouge et cinq côtés en bleu:



2 Entoure seulement les angles droits:



3 Indique combien il y a d'angles droits:

