

Réponds aux questions grâce aux textes.

QUESTIONS

Qu'y a-t-il sous la peau du phoque ?

Ils ont une épaisse couche de graisse.

Le plumage des manchots les protège de quoi ?

Il les protège du froid et de l'humidité

Jusqu'où l'ours blanc a-t-il de la fourrure ?

Jusque sous les pattes.

Au pôle Nord et au pôle Sud, règnent un froid intense et des vents violents.

Pourtant, de nombreux animaux y vivent : ils sont adaptés au climat et résistent au froid.

3. Les manchots

Les manchots possèdent un épais plumage imperméable qui les protège de l'humidité et du froid.

Leurs pattes palmées et leurs ailes en forme de nageoires en font d'excellents nageurs.




1. L'ours blanc ou ours polaire

Sa fourrure épaisse et imperméable garde son corps au chaud et au sec.

Les poils blancs sont creux et isolent son corps du froid.


L'ours blanc a de la fourrure jusque sous les pattes : cela lui évite de glisser. Ses griffes pointues lui permettent aussi de bien tenir sur la glace.



4. Les phoques

Ils ont une épaisse couche de graisse sous la peau.

Cela leur permet de ne pas ressentir les effets du froid.



5. Le lièvre arctique

Son pelage est blanc. Ses pattes larges et longues lui permettent de ne pas s'enfoncer dans la neige fraîche.

2. Le renard arctique

Il possède une épaisse fourrure blanche et une queue touffue.

Son pelage d'hiver lui permet de ne pas se refroidir.

Au printemps, son pelage devient moins épais et sa couleur passe au gris roux ou ocre.



6. Les morses

Le morse a lui aussi une épaisse couche de graisse qui le protège du froid.

Il utilise ses défenses pour creuser la glace, déterrer crabes et oursins au fond de l'eau.

Parfois, les morses dorment dans l'eau, suspendus à la glace par leurs défenses.

Evaluation Lecture au CE2 - I.E.N. - Dunkerque - Hazebrouck

1 Transforme les phrases suivantes avec le nouveau sujet indiqué.

Le chaton mange des croquettes. → Les chatons mangent des croquettes.

Le nuage est gris. → Les nuages sont gris.

Il va au cinéma ce soir. → Ils voient au cinéma ce soir.

2 Entoure les verbes en rouge et les ~~verbes~~ en bleu.

Le lapin mange les légumes. <sup>sujets</sup>

Ma sœur déchire sa robe.

Je marche sur le trottoir étroit.

Les enfants jouent aux cartes.

3 Réécris les phrases suivantes au pluriel :

Le héron marche sur le mur. → Les hérons marchent sur les murs.

Il dessinait sur son cahier. → Ils dessinaient sur ses cahiers.

4 Ecris au présent de l'indicatif à la personne demandée :

vous faites (faire)

il dit (dire)

vous faites (faire)

tu viens (venir)

on peut (pouvoir)

ils prennent (prendre)

je veux (vouloir)

vous venez (venir)

il fait (faire)

ils viennent (venir)

tu veux (vouloir)

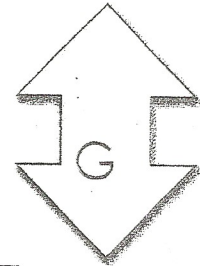

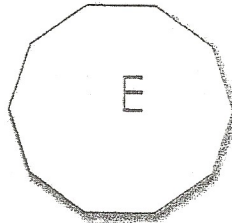
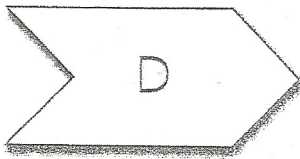
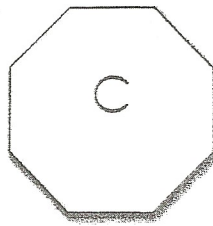
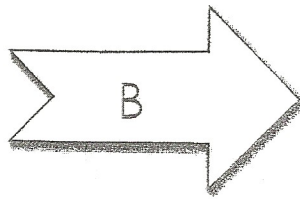
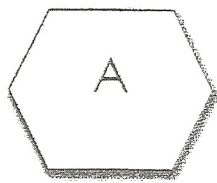
je dis (dire)

elle dit (dire)

nous venons (venir)

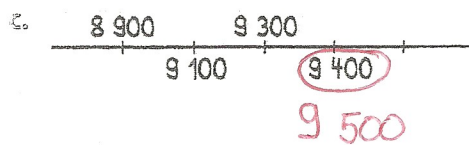
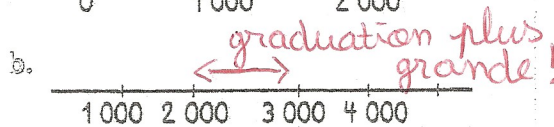

elles font (faire)

7 Classe les formes dans le tableau :

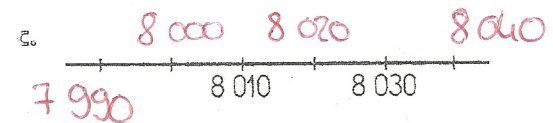
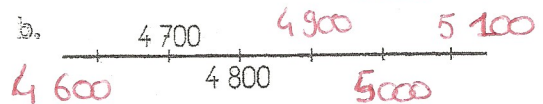
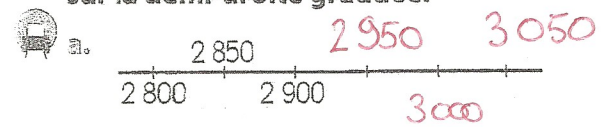


Six côtés	huit côtés	deux côtés
A D	C B	F E G

1 Dis quelle erreur a commis l'élève sur chacune de ces graduations.



2 Écris les nombres manquants sur la demi-droite graduée.





Jeu di 28 Mai

Poser des opérations (2)

D Pose et calcule

735 x 6

	<del>2</del>	<del>3</del>		
	7	3	5	
x			6	
<hr/>				
4	4	1	0	

849 x 35

	<del>2</del>	<del>3</del>		
	8	4	9	
x		3	5	
<hr/>				
4	<sup>1</sup> 2	4	5	
<hr/>				
+2	5	4	7	0 <del>2</del> <del>3</del>
<hr/>				
2	9	7	1	5

539 x 4

	<del>1</del>	<del>2</del>		
	5	3	9	
x			4	
<hr/>				
2	1	5	6	

812 x 3


	8	1	2	
x			3	
<hr/>				
2	4	3	6	



# Vachement moi !

Emmanuel BOURDIER

## Chapitre 4



Jeudi 28

Nom : \_\_\_\_\_ Prénom : \_\_\_\_\_

Je lis les pages 25 à 31. Je peux garder mon livre ouvert pour répondre aux questions.

1) Pourquoi les parents de Paul pensent-ils que leur fils n'est pas une vache ?

Car rien ne montre qu'il puisse être une vache, et bébé il était allergique au lait de vache.

2) Selon M<sup>r</sup> Darfeux, l'ordinateur de contrôle ne peut pas être mis en cause car...

Il est hors de prix !	Il a été révisé récemment.
L'appareil est dans un état neuf.	Il n'a jamais commis une erreur !

3) La lecture du code-barres de M<sup>r</sup> Darfeux révèle quatre renseignements à son sujet. Je les recopie.

Il est né un lundi à 10h37.

Il a 8 sœurs aînées. Il a remporté 10 fois le concours Régionale de pôtanque. Il ne porte pas de slip mais des caleçons à fleurs.

4) Les parents de Paul finissent-ils par admettre que leur fils est sans doute une vache ? ⇒ Oui.

5) Paul n'accepte pas son sort... Quel marché passe-t-il alors avec M<sup>r</sup> Darfeux ?

Il demande à M<sup>r</sup> Darfeux de lui laisser lui prouver qu'il n'est pas une vache.

6) Qui prononce ces paroles ?

- Cependant, il me semble qu'il y a peut-être une erreur. → La mère de Paul.

- Il a raison, ma chouette, si l'ordinateur le dit... → Le père de Paul

- Vraiment, vous m'en voyez désolé, mais votre fils est bel et bien une vache. → M<sup>r</sup> Darfeux

- En attendant, enlève tes pattes de cette fenêtre et retourne dans la cour. → La mère

7) Vrai ou faux ?

	Vrai	Faux
Le code-barres de M <sup>r</sup> Darfeux est rose bonbon.	X	
La mairie a construit un terrain de rugby pour les retraités.		X

Vendredi 29 Mai

Grammaire : les natures

Écris la nature des mots soulignés.

Le 12 septembre 1940, quatre enfants arpentaient les bois couvrant la colline de Lascaux. Comme tous les gosses de ce pays farci de cavités, ils emportaient à tout hasard une lampe électrique.

Marcel Ravidat, leur chef de bande, était précédé de son chien Robot qui furetait dans les broussailles. Soudain, l'animal disparut dans un trou... Marcel se laissa glisser, la tête la première... mais il perdit l'équilibre et dégringola jusqu'en bas.

La bande entreprit l'exploration de la caverne...

Marcel braqua sa lampe sur une paroi et s'arrêta net. Un grand animal colorié s'étalait sur la roche, dessiné en traits noirs, rouges et jaunes.

« C'est une grotte préhistorique ! » s'écria-t-il.

Lascaux inviolée, se trouvait dans l'état où l'avait laissée nos ancêtres quinze mille ans plus tôt.

<u>enfants</u> :	<u>Nom commun</u>	<u>son</u> :	<u>Déterminant</u>
<u>ils</u> :	<u>pronoms personnels</u>	<u>il</u> :	<u>pronom personnel</u>
<u>une</u> :	<u>Déterminant</u>	<u>équilibre</u> :	<u>Nom commun</u>
<u>électrique</u> :	<u>Nom commun</u>	<u>grand</u> :	<u>Nom commun</u>
<u>Marcel</u> :	<u>Nom propre</u>		

Trouve un mot supplémentaire dans chaque famille de mots.


A → enterrer - terrassement - atterrir      déterrer

B → dent - dentition - dentaire      dentiste



Je m'entraîne

① Relie d'un trait l'adjectif et le nom qu'il complète.



② Pour chaque nom souligné, recopie l'adjectif.

La galette est une spécialité bretonne. Elle est fabriquée avec de la farine de sarrasin, appelée aussi blé noir. C'est une délicieuse crêpe épaisse, de couleur brune.

- spécialité ..... bretonne ..... crêpe ..... délicieuse / épaisse  
 - blé ..... noir ..... couleur ..... brune

③ Entoure tous les adjectifs qualificatifs et relie-les d'une flèche au nom qu'ils précisent.

Ma grand-mère cuisine de la bonne pâtisserie légère.

Mathéo mange une gaufre croustillante.

Mon dessert préféré est la crème anglaise vanillée avec des îles flottantes.







Vendredi 29 Mai

Problèmes

- G Dans un jeu vidéo, pour devenir reine, il faut 1750 points. Alix en a déjà 265. Combien de points lui faut-il encore si elle veut devenir reine dans ce jeu ?

Tes calculs, ta recherche :  $1750 - 265 = 1485$

Ta réponse : Il lui faut 1485 points

- H Valentin pèse 3 billes identiques. La balance indique 258 g. Combien pèse une bille ?

Tes calculs, ta recherche :  $86 + 86 + 86 = 258$

Ta réponse : Une bille pèse 86g.

- I Un épicier a 240 macarons. Pour les vendre, il les met par sacs de 25 macarons. Combien de sacs de 25 macarons pourra-t-il mettre en vente ?

Tes calculs, ta recherche :  $25 \times 9 = 225$

Ta réponse : Il pourra vendre 9 sacs de 25 macarons