

# Jeudi 18 juin

Français :

## **1. Conjugue les verbes entre parenthèses au présent de l'indicatif.**

- Je (finir) . . . . . mon travail rapidement.
- Tu (grandir) . . . . . beaucoup depuis l'an dernier.
- Camille (finir) . . . . . ses devoirs.
- Le lion (rugir) . . . . . dans la savane.
- Nous (guérir) . . . . . vite avec les médicaments.
- Vous (obéir) . . . . . au maître pendant le sport.
- Les enfants (grandir) . . . . . avant l'âge de 18 ans.
- Elles (choisir) . . . . . leur cadeau de Noël.
- Pierre et Paul (rougir) . . . . . de honte.
- Il (bondir) . . . . . sur le ballon pour l'arrêter.

2) Recopie ces phrases en complétant les noms soulignés avec des adjectifs qualificatifs. Fais bien attention aux accords !

Le prince arrive au château sur son cheval.

.....

Il franchit le pont-levis et s'approche de la princesse.

.....

Elle porte une robe et une couronne.

.....

3) Recopie les phrases suivantes sur ton cahier. Souligne le verbe en rouge et le sujet en bleu. Donne l'infinitif du verbe. Conjugue le verbe à toutes les personnes au présent.

- Dans le ciel, les étoiles brillaient.
- Chaque matin, Manon observait le ciel.
- Parfois, elle voyait une étoile filante.

4) Complète les mots avec n ou m.

un me.....bre – un ge.....darme – e.....porter – une fra.....boise – un bo.....bon – un tro.....c –  
une guirla.....de – tre.....bler – un ca.....peur – une bo.....be – la ca.....pagne – no.....breux

Lis le texte, entoure les indices qui te permettent de répondre à la question puis réponds-y en faisant une phrase.

## devi-texte

1 ANGELE \*

Elle vit à la campagne, au milieu d'un jardin. Elle est entourée d'amies qui lui ressemblent beaucoup.

Si tu la cueilles sans faire attention, elle est capable de te piquer jusqu'au sang. Henri, le vieux monsieur qui s'occupe d'Angèle et de ses amies, sait comment faire.

Un matin, Henri approche et se promène au milieu d'elles, il les sent, les touche, les admire. D'un coup, il sort un sécateur et clic ! Trois fois clic ! Angèle et deux de ses amies quittent le jardin dans la main d'Henri, en pleurant.

A midi, elles sont dans un vase rempli d'eau, chez Marcelle, la voisine d'Henri, très heureuse du cadeau offert par son ami. Angèle est contente de voir un nouveau paysage mais elle sait qu'elle n'a plus beaucoup de temps à vivre.

Qui est Angèle ?

# Mathématiques :

## 1) Problèmes

8 • Laurie a fait cuire 475 g de pâtes qu'elle a pris dans un paquet de 1 kg.  
Quelle masse de pâtes reste-t-il dans le paquet ?

---

---

---

9 • Pour connaître le poids de son chien, Liam se pèse avec lui. Liam pèse 39 kg.  
Quelle est la masse du chien de Liam ?




---

---

---

10 • Voici l'étiquette d'une boîte de conserve.

a. Quelle est la masse des petits pois ?  
b. Quelle est la masse d'eau contenue dans la boîte ?




---

---

---

3\* Colorie les nombres où le chiffre des dizaines de milliers est **plus grand** que le chiffre des dizaines.

345 201

728 556

643 521

401 273

735 016

6\* Compare les nombres avec < ou >.

Lorsqu'ils ont le **même** nombre de chiffres, entoure les chiffres qui t'ont permis de choisir le signe.

|         |       |         |       |         |       |         |       |         |       |         |
|---------|-------|---------|-------|---------|-------|---------|-------|---------|-------|---------|
| 678 431 | ..... | 67 843  | ..... | 847 357 | ..... | 207 401 | ..... | 107 776 | ..... | 107 777 |
| 843 599 | ..... | 843 641 | ..... | 60 989  | ..... | 60 999  | ..... | 743 652 | ..... | 742 635 |

7\* Range les nombres dans l'ordre croissant.

999 909      909 990      990 099      990 909      99 999      99 909

Complète avec <, > ou =.

4

|         |       |            |       |         |       |           |       |          |       |           |
|---------|-------|------------|-------|---------|-------|-----------|-------|----------|-------|-----------|
| 3 kg    | ..... | 2 904 g    | ..... | 9 999 g | ..... | 10 kg     | ..... | 7 kg 3 g | ..... | 7 300 g   |
| 1 470 g | ..... | 1 kg 470 g | ..... | 9 060 g | ..... | 9 kg 60 g | ..... | 6 700 g  | ..... | 6 kg 70 g |

Range les masses de la plus petite à la plus grande.

7

358 g      2 t 800 kg      3 100 g      2 740 kg      3 kg 54 g      3 t

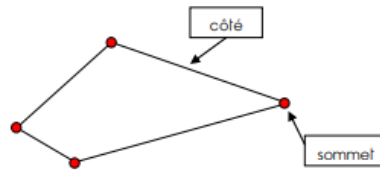
..... < ..... < ..... < ..... < .....

Lis la leçon et colle là dans ton cahier.

## LES POLYGONES PARTICULIERS

### 1. LES QUADRILATERES

Un **quadrilatère** a **quatre** côtés et **quatre** sommets :

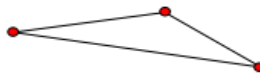


Cas particuliers :

| LE LOSANGE                      | LE CARRE                                                | LE RECTANGLE                                                  |
|---------------------------------|---------------------------------------------------------|---------------------------------------------------------------|
|                                 |                                                         |                                                               |
| <p>4 côtés de même longueur</p> | <p>- 4 côtés de même longueur<br/>- 4 angles droits</p> | <p>- côtés opposés de même longueur<br/>- 4 angles droits</p> |

### 2. LES TRIANGLES

Un **triangle** a **trois** côtés et **trois** sommets :



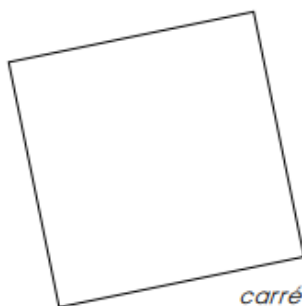
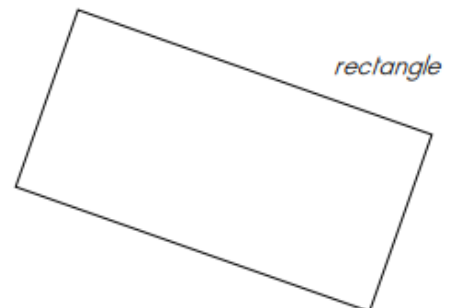
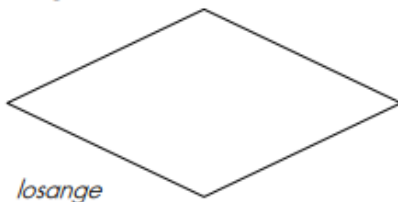
Cas particulier :

| LE TRIANGLE RECTANGLE |                                      |
|-----------------------|--------------------------------------|
|                       | <p>- 3 côtés<br/>- 1 angle droit</p> |

### Exercices

Voici trois **quadrilatères**.

1. Repère les angles droits et code-les. Repère aussi les côtés de même longueur.



Utilise **une équerre** pour trouver les angles droits et **une règle graduée** pour comparer les longueurs des côtés.

2. Complète ce tableau en écrivant OUI ou NON dans chaque case.

|                          | rectangle | carré | losange |
|--------------------------|-----------|-------|---------|
| 4 angles droits          | .....     | ..... | .....   |
| 4 côtés de même longueur | .....     | ..... | .....   |

# Vendredi 19 juin

Français :

1. Sur ton cahier, recopie :

♣ en vert les phrases au passé,

♣ en bleu les phrases au présent,

♣ en noir les phrases au futur

Dans l'avenir J'ai perdu mes dents de lait à l'âge de 6 ans. Quand je serai adulte, j'aurai 32 dents. Chaque jour, nous perdons entre 40 et 50 cheveux. A la naissance, tu avais 300 os. Plus tard, tu auras 206 os car beaucoup vont se souder. Notre cœur bat 70 fois par minute.

2) Sur ton cahier, récris ces textes en remettant les phrases dans l'ordre chronologique (l'ordre du temps qui passe).

a. Je casse les œufs. J'ai pris un saladier pour faire un gâteau. J'ajouterai la farine, la levure et le sucre.

b. Elle le rangera lorsqu'elle aura terminé. La fillette s'est installée confortablement dans un fauteuil. Elle lit un livre de contes.

3) Entoure l'intrus dans chaque liste de synonymes.

a. percer – creuser – perforer – lisser – trouser

b. un adversaire – un ennemi – un partenaire – un rival – un opposant

c. un accident – un péage – une catastrophe – un désastre – un malheur

d. nettoyer – laver – lessiver – débarbouiller – emmener

3. Complète les phrases avec les contraires des mots soulignés.

Un escargot avance lentement, mais un lièvre court .....

À sept heures du matin il est tôt, mais à minuit il est .....

Un sac de pierres est lourd, mais un sac de plumes est .....

Le charbon est noir, mais la neige est .....

4. Recopie les listes de mots dans l'ordre alphabétique.

Liste 1 : prince – roi – princesse – fée – ogre – reine

.....

Liste 2 : poire – pomme – pêche – chêne – pommier – poirier – châtaignier

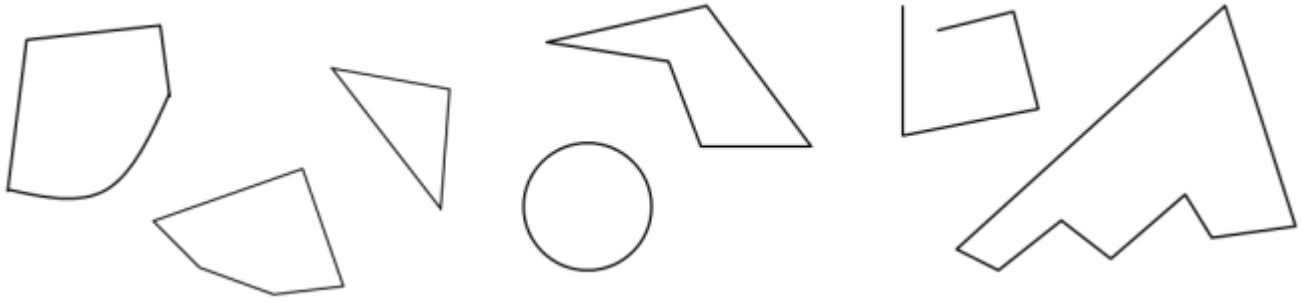
.....

2. Conjugué les verbes entre parenthèses au présent de l'indicatif.

- Tu (venir) . . . . . au tableau pour corriger.
- Nous (faire) . . . . . des exercices de mathématiques.
- Vous (partir) . . . . . en vacances à Noël.
- ILS (aller) . . . . . en vacances à la mer.
- Il (voir) . . . . . la mer pour la première fois.
- Nous (prendre) . . . . . le petit déjeuner ensemble.
- Nous (voir) . . . . . nos parents à 16 h 30.
- Papa (prendre) . . . . . le train demain.
- Maman (pouvoir) . . . . . me récupérer à la sortie de l'école.
- Je (faire) . . . . . mon devoirs avant de manger.

## Mathématiques :

**1** Parmi les figures suivantes, colorie les polygones en jaune.



**2) Trace un triangle rectangle dont l'un des côtés mesure 6 cm.**

3. Complète chaque phrase avec le nom du quadrilatère qui convient.

J'ai 4 angles droits et 4 côtés de même longueur, je suis un .....

J'ai 4 côtés de même longueur mais pas d'angle droit, je suis un .....

J'ai 4 angles droits et mes côtés opposés sont de même longueur, je suis un

.....

**1. Retrouve les angles droits avec ton équerre et code-les.**



**4) Pose et calcul.**

$$756 \times 54 =$$

$$164 \times 27 =$$

$$426 \times 84 =$$

5) Ecris en lettre.

123 847 : \_\_\_\_\_

77 071 : \_\_\_\_\_

196 302 : \_\_\_\_\_

**12** • Un paquet de gâteaux pèse 30 dag. Le paquet vide pèse 14 g.  
Quelle est la masse des gâteaux ?

---



---

**13** • Voici quelques nutriments nécessaires à une bonne croissance.

| Nutriment  | Quantité par jour |
|------------|-------------------|
| Calcium    | 12 dg             |
| Vitamine D | 5 mg              |
| Fer        | 12 mg             |
| Magnésium  | 35 cg             |

Quelle est la quantité totale de nutriments, en mg, par jour ?

---



---



---



---

**1. Écris les heures du matin et de l'après-midi pour chaque horloge.**



Matin : ..... h ..... min

Après-midi : ..... h ..... min



Matin : ..... h ..... min

Après-midi : ..... h ..... min



Matin : ..... h ..... min

Après-midi : ..... h ..... min



Matin : ..... h ..... min

Après-midi : ..... h ..... min



Matin : ..... h ..... min

Après-midi : ..... h ..... min



Matin : ..... h ..... min

Après-midi : ..... h ..... min



Matin : ..... h ..... min

Après-midi : ..... h ..... min



Matin : ..... h ..... min

Après-midi : ..... h ..... min