

Mardi 19 mai

Français :

1) Phrase du jour :

Nous adorons les gâteaux avec du chocolat fondu !

- a) Souligne le verbe en rouge. Donne son infinitif
- b) Conjugue le verbe à toutes les personnes
- c) Souligne le sujet en bleu
- d) Recopie la phrase et remplace le sujet par un groupe nominal.

2) Conjugue les verbes être et avoir au présent.

(avoir) Tu déjà 6 ans !

(avoir) Vous beaucoup de chance.

(avoir) Ils plein de cadeaux.

(être) Je encore chez toi !

(être) Nous en vacances le vendredi soir.

3) Production d'écrit



Ecris de 3 à 5 phrases pour décrire l'image. (Pense aux majuscules et aux points) :

.....

.....

.....

.....

.....

.....

mots pour t'aider :

le magasin – le vendeur –
acheter – payer – choisir –
une balance – des légumes
– des fruits – des haricots –
des poireaux – des radis –
des oranges – des cerises

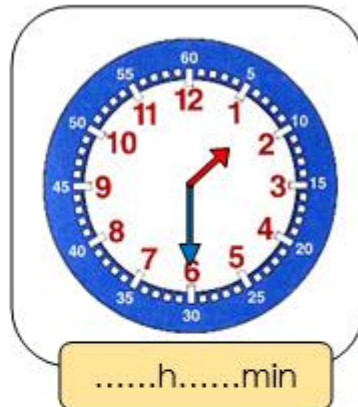
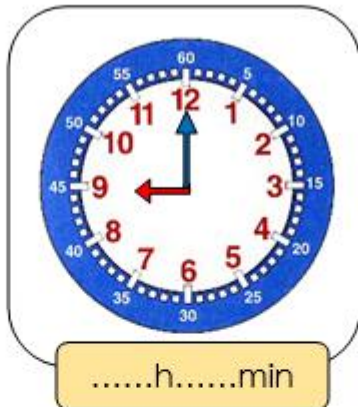
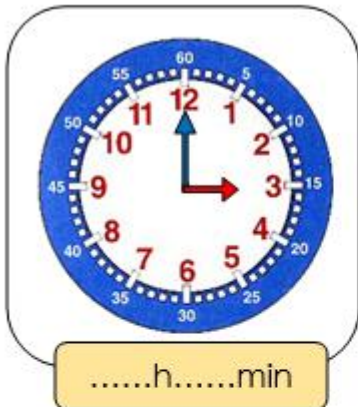
❶ A côté de chaque phrase écris si c'est une phrase *déclarative, interrogative,*

impérative ou exclamative:

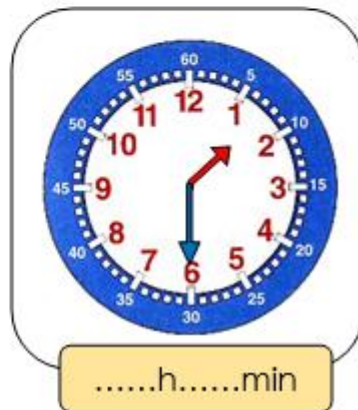
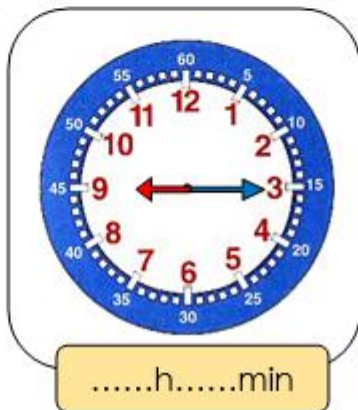
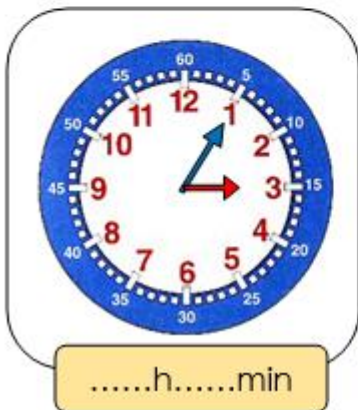
Les citrouilles sont creusées et décorées.	
Pourquoi pleures-tu ?	
Tu as peur des monstres ?	
Arrête de te balancer sur ta chaise !	
Vive les vacances !	
Comment vas-tu te déguiser pour Halloween ?	
Les enfants vont sonner aux portes pour avoir des bonbons.	
Range ta chambre avant de sortir.	
Quel beau déguisement !	
Je n'ai pas peur des sorcières.	

Mathématiques :

1 Indique l'heure. C'est le matin.



2 Indique l'heure. C'est l'après-midi.



3) Pose et calcul


$$1\ 8942 \times 6 =$$

$$1\ 589 - 745 =$$

$$7\ 954 \times 8 =$$

$$687 - 109 =$$

② Dessine le moins de pièces et de billets possible pour payer ces achats.



4) Problème

Un paquebot de croisière peut emmener 4 500 passagers.

Le dimanche matin, 1 758 adultes et 869 enfants sont montés à bord.

Combien resterait-il de places disponibles ?

5) Complète.

$$4\text{€ } 50\text{c} + \dots = 5\text{€}$$

$$12\text{€ } 80\text{c} + \dots = 13\text{€}$$

$$25\text{€ } 90\text{c} + \dots = 27\text{€}$$

$$6\text{€ } 62\text{c} + \dots = 10\text{€}$$

$$\dots + 7\text{€ } 10\text{c} = 15\text{€}$$

$$\dots + 10\text{c} = 13\text{€}$$

$$\dots + 2\text{€ } 95\text{c} = 16\text{€}$$

$$\dots + 75\text{c} = 10\text{€}$$

Devinette :

Je suis un nombre de deux chiffres. J'ai huit dizaines. Mon chiffre des unités est la moitié de mon chiffre des dizaines. Qui suis-je ?

Vocabulaire : Que signifie l'adjectif : éphémère

Virelangue :

Répète trois fois et le plus vite possible cette phrase : « Trois tortues têtues trottent sur une trottinette. »