

Mardi 26 Mai

V4 Choisis 2 mots dans la liste et range-les dans les cases en respectant l'ordre alphabétique.

ferme - demain - école - dimanche - ballon

classe farine fumée garage

pomme - partout - pari - poire - parure

parent partir passoire pâtissier

2. Complète les phrases suivantes avec le verbe demandé au présent :

blanchir -> La lessive _____ le linge.

guérir -> Les médicaments _____ de nombreuses maladies.

désobéir -> Nous _____ souvent à nos parents.

envahir -> Les mauvaises herbes _____ notre jardin.

nourrir -> La chatte _____ ses petits.

grandir -> On _____ de quelques centimètres par an.

franchir -> Les athlètes _____ tous les obstacles.

se réunir -> La famille _____ tous les ans à Noël.

remplir -> _____ -vous la machine à laver tous les jours ?

élargir -> Les ouvriers _____ le tunnel.

Conjugaison : l'infinif

21

Infinif

L Indique l'infinif du verbe souligné.

Je prenais le train chaque matin.

Infinif : _____

Tristan dort profondément.

Infinif : _____

Il a rêvé qu'il découvrait un trésor.

Infinif : _____

H Classe ces mots par ordre alphabétique.

lit


monsieur

vélo

monstre

vitre

maman



16

Ordre
alphabétique

I Transforme la phrase affirmative en phrase négative.

Théo a gagné la course.

Réécis la phrase en mettant au pluriel les GN soulignés :

Wong dessina un grand oiseau, un magnifique héron.



Calcul mental 3 minutes :

$3 \times 6 = \dots$

$3 \times 3 = \dots$

$6 \times 4 = \dots$

$2 \times 1 = \dots$

$4 \times 9 = \dots$

$3 \times 7 = \dots$

$5 \times 4 = \dots$

$4 \times 5 = \dots$

$4 \times 10 = \dots$

$5 \times 8 = \dots$

$5 \times 5 = \dots$

$7 \times 4 = \dots$

$7 \times 5 = \dots$

$0 \times 3 = \dots$

$3 \times 5 = \dots$

$6 \times 2 = \dots$

$10 \times 5 = \dots$

$8 \times 3 = \dots$

① Complète.

a. $95 \text{ min} = \dots \text{ h } \dots \text{ min}$

b. $52 \text{ h} = \dots \text{ jours } \dots \text{ h}$

c. $90 \text{ s} = \dots \text{ min } \dots \text{ s}$

②

Colorie d'une même couleur les étiquettes qui indiquent la même durée.

1 jour 8 h

36 h

100 s

75 min

1 h 45 min

1 min 40 s

2 160 min

1 h 15 min

32 h





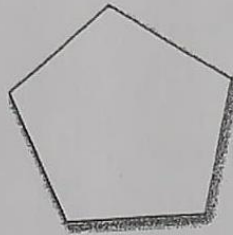
105 min

Place M milieu de $[AB]$

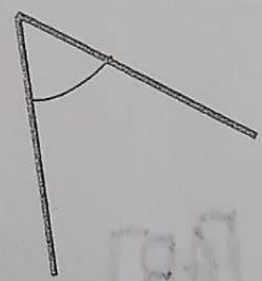
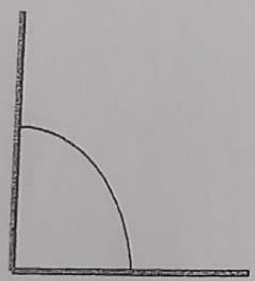



1



Colorie les formes qui ont trois côtés en vert, quatre côtés en rouge et cinq côtés en bleu:



2 Entoure seulement les angles droits:



3 Indique combien il y a d'angles droits:



MANDALA

■ de 2 à 12 □ de 12 à 18 des multiplications

□ de 20 à 36

□ de 36 à 40

