

Mardi 9 juin

Classe les mots de la même famille dans les 2 colonnes et trouve un cinquième mot pour chaque colonne :

sécher, rougir, sécheresse, séchage, rougissant, sec, rougeole, rougeoyant

2. Conjugue le verbe demandé au présent de l'indicatif :

- choisir => Yves et moi, nous _____ une fiche.
- finir => Alain et toi, vous _____ toujours les gâteaux.
- agrandir => Vous _____ le rectangle de deux mètres en largeur.
- rougir => Les personnes sensibles _____ facilement.
- rugir => Nous _____ tous comme des lions.
- réussir => A l'école, Mathieu _____ tout ce qu'il fait.
- grandir => Ton frère et toi, vous _____ très vite.
- finir => Tu _____ ton travail avant de sortir.
- choisir => Isabelle _____ souvent les frites à la cantine.
- avertir => Maman et moi, nous _____ mon petit frère.
- blanchir => Les affiches _____ sous le soleil.

1 Sous chacun des mots soulignés écris s'il s'agit d'un nom ou d'un adjectif.

Maman casse des œufs et sépare les jaunes des blancs pour faire son gâteau.

.....

Mario porte des chaussettes jaunes.

.....

Léonie utilise des œufs et bat les blancs en neige pour faire des îles flottantes.

.....

Couverts de neige, les sapins blancs sont magnifiques.

.....

Je dois ranger ces nombres dans l'ordre croissant.

.....

Le dimanche, Papa m'achète un croissant pour le petit déjeuner.

.....

2 Souligne les noms qualifiés par les adjectifs en gras. Relie chaque nom à son ou ses adjectif(s) par une flèche.

Pour faire une **bonne** tarte, il faut de **grosses** pommes **rouges**.

La fée Margot se demande où elle a mis sa baguette **magique**.

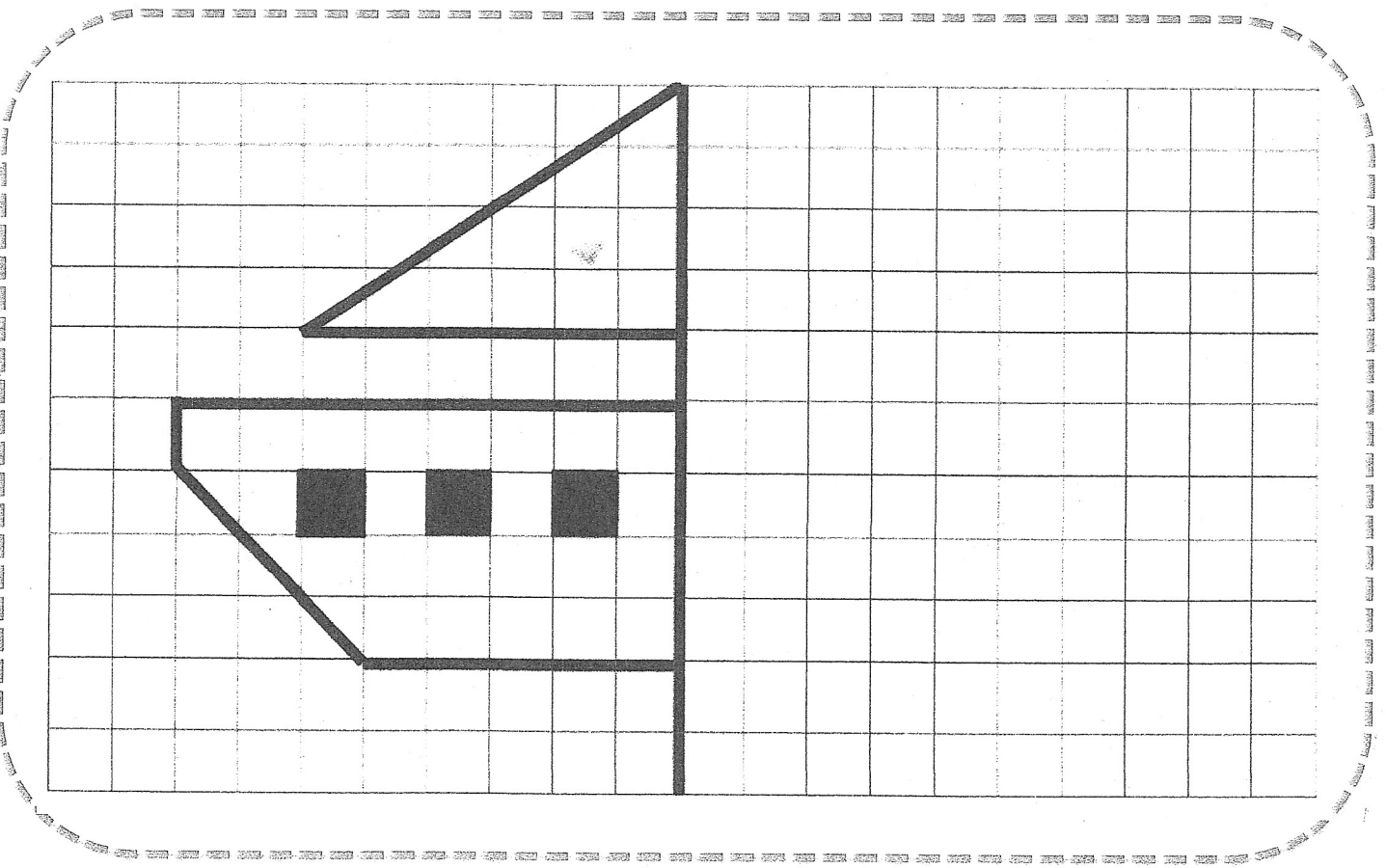
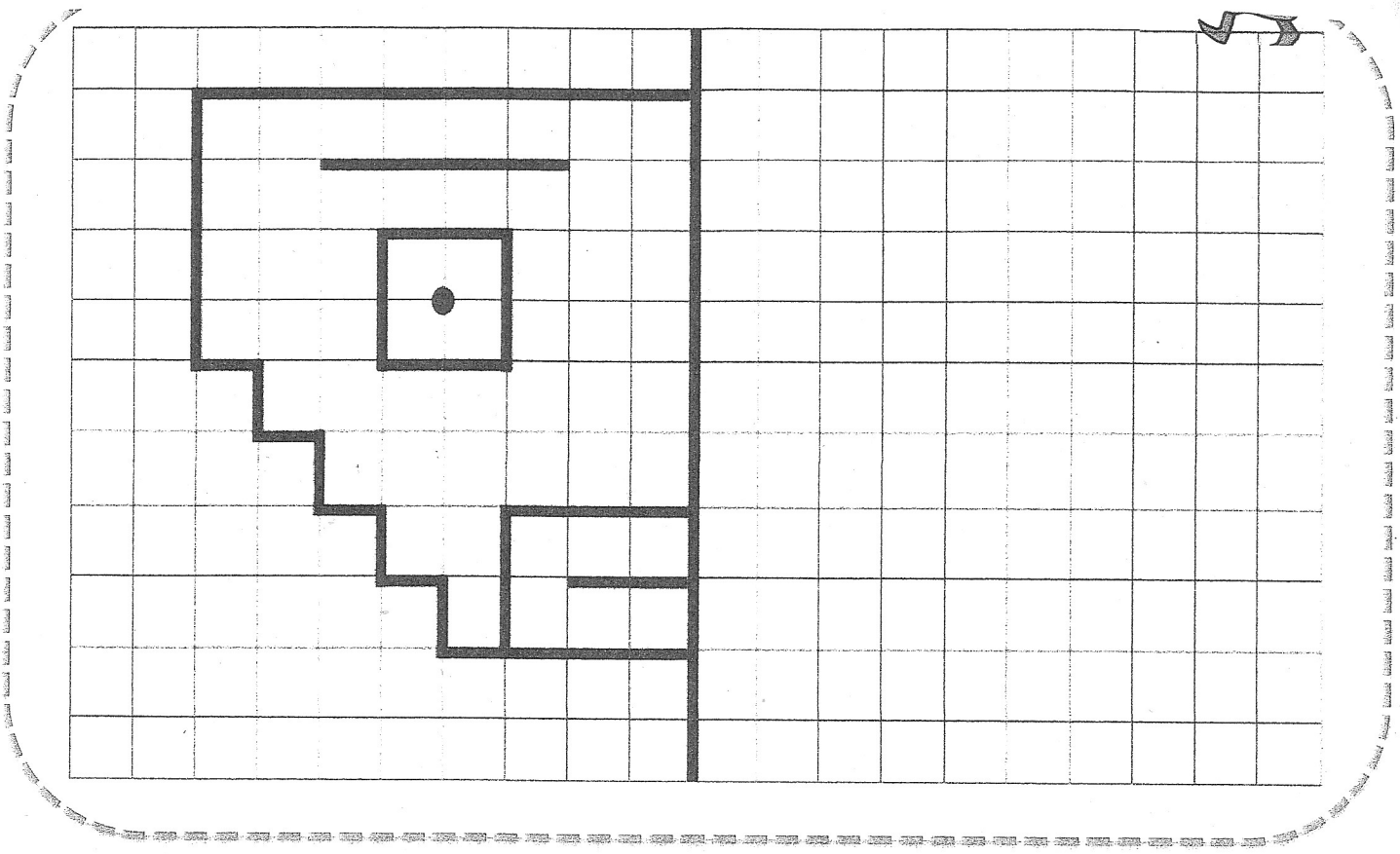
Ma maison a de **beaux** volets **bleus** et le **vaste** jardin est rempli de fleurs **multicolores**.

Un **gros** chat **gris** s'avance vers la **petite** souris **tremblante**.

3 Relie chaque adjectif au nom qu'il peut qualifier. Fais bien attention aux accords !

- | | |
|----------------|-------------|
| un chien ● | ● petite |
| des montres ● | ● fatigués |
| une fille ● | ● effrayé |
| des enfants ● | ● hanté |
| une histoire ● | ● longue |
| un manoir ● | ● digitales |

1	<p>Il prit l'énorme trousseau qui pendait à sa ceinture, choisit une petite clé rouillée et ouvrit le verrou. Dans la cellule, l'homme dormait, la tête tournée vers le mur.</p> <p><u>Qui sont ces deux hommes ?</u></p>
2	<p>Simon sortit de son sac de couchage, ouvrit la porte de toile et se glissa dehors. L'herbe était mouillée de rosée, le soleil n'allait pas tarder à se lever.</p> <p><u>Où dort Simon ?</u></p> <p><u>Quelle heure est-il ? Midi, 5 heures du matin ou minuit ?</u></p>
3	<p>Fanny fit signe à l'automobiliste de s'arrêter le long du trottoir. « Vous roulez beaucoup trop vite ! Sortez les papiers du véhicule et votre permis de conduire, s'il vous plait ! »</p> <p><u>Quel est le métier de Fanny ?</u></p>
4	<p>Quand elle sortit de l'ascenseur, au troisième étage, Gabrielle découvrit tout Paris. Elle s'agrippa à la balustrade de fer car, à presque 300 mètres de hauteur, elle avait un peu le vertige...</p> <p><u>Où se trouve Gabrielle ?</u></p>



Numérote les longueurs de la plus courte à la plus longue.

25 mm	2 cm 2 mm	5 m	5000 m	4 km 500 m	500 cm 3 mm
<input type="text"/>	<input type="text"/>	<input type="text"/>	<input type="text"/>	<input type="text"/>	<input type="text"/>

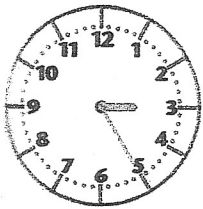
Complète et calcule.

Distance parcourue par l'escargot: cm + cm + cm = m cm

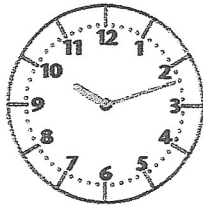
Barre l'intrus.

351 mm	35 cm 10 mm	35 cm 1 mm	30 cm 5 cm 1 mm
--------	-------------	------------	-----------------

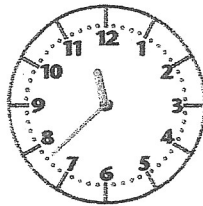
Écris l'heure sous chaque horloge.



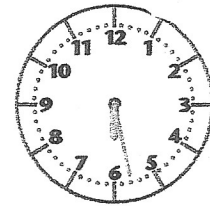
..... h



..... h



..... h



..... h