

Vendredi 12 juin

**Exercice 9 : Recopie le groupe nominal en choisissant l'adjectif qui convient.**

- la plante (grimpant – grimpante)
- le fruit (délicieux – délicieuse)
- un vêtement (sec – sèche)
- des cheveux (brun – bruns)
- ces desserts (sucrés – sucré)
- les enfants (coléreux -coléreuses)

**Exercice 10 : Souligne l'adjectif qualificatif puis indique leur genre : masculin ou féminin.**

- un couteau aiguisé →
- une histoire vraie →
- l'herbe haute →
- une question difficile →

**Exercice 11 : Souligne l'adjectif qualificatif puis indique leur nombre : singulier ou pluriel.**

- le jeune garçon →
- nos vêtements sales →
- une cabane secrète →
- des hommes courageux →

**Exercice 1 : Souligne l'adjectif qualificatif de chaque groupe nominal.**

- des fruits mûrs
- une longue promenade
- cette plante majestueuse
- la mousse verdâtre

**Exercice 2 : Encadre le nom en rouge puis souligne en vert les adjectifs qualificatifs.**

- un minuscule champignon jaune
- ses larges feuilles aplaties
- les fines écorces marrons
- ce grand arbre fruitier
- un violent vent hivernal

Vendredi 12 juin

Entoure dans la phrase un mot appartenant à la classe désignée.

- Déterminant → Mes parents partent en vacances en Italie.  
Adjectif → Ils visiteront la superbe ville de Rome.  
Nom propre → Le Colisée est un ancien théâtre romain.  
Nom commun → Il attire de nombreux touristes.  
Verbe → À leur retour, ils nous raconteront leur voyage !  
Pronom personnel → Nous regarderons les photos.

Encadre en rouge le groupe du verbe ; encadre en bleu le groupe sujet du verbe. Écris au-dessus de chaque mot l'initiale de sa nature.

Mes amis visitent la Corse.

Ils font des randonnées pédestres.

Les touristes photographient les paysages magnifiques.

Vendredi 12 juin

**3. Complète les phrases avec les contraires des mots soulignés.**

Un escargot avance lentement, mais un lièvre court .....

À sept heures du matin il est tôt, mais à minuit il est .....

Un sac de pierres est lourd, mais un sac de plumes est .....

Le charbon est noir, mais la neige est .....

**3. Sur ton cahier, récris les phrases en remplaçant le verbe faire par un de ses synonymes : fabriquer – nettoyer – écrire – construire. Attention, tu dois conjuguer les verbes !**

Le menuisier fait une table en hêtre.

Le maçon fait le mur d'une maison.

Papa fait la vaisselle.

Cet auteur fait de nombreux livres.

**4. Dans chaque liste de mots, souligne le mot synonyme du mot en gras.**

un malfaiteur : un bienfaiteur – défaire – un policier – un bandit


un colis : un livreur – un paquet – une lettre – un tiroir

commencer : débiter – attendre – apercevoir – mettre

finir : commencer – abandonner – finition – terminer

Vendredi 12 juin

Utilise ton équerre pour marquer chaque angle droit d'un petit carré vert.




Numérote les heures du plus tôt au plus tard.

20h30	10h15	9h55	22h10	15h15	3h05
<input type="checkbox"/>	<input type="checkbox"/>	<input type="checkbox"/>	<input type="checkbox"/>	<input type="checkbox"/>	<input type="checkbox"/>

Numérote les heures du plus tard au plus tôt.

6h50	18h50	1h55	13h46	deux heures moins le quart (pm)
<input type="checkbox"/>	<input type="checkbox"/>	<input type="checkbox"/>	<input type="checkbox"/>	<input type="checkbox"/>

«pm» signifie après midi.




**Problème**

Hugo a battu son record de distance à vélo qui était de 2 km 250 m.

Quelle est la distance de son nouveau record ?

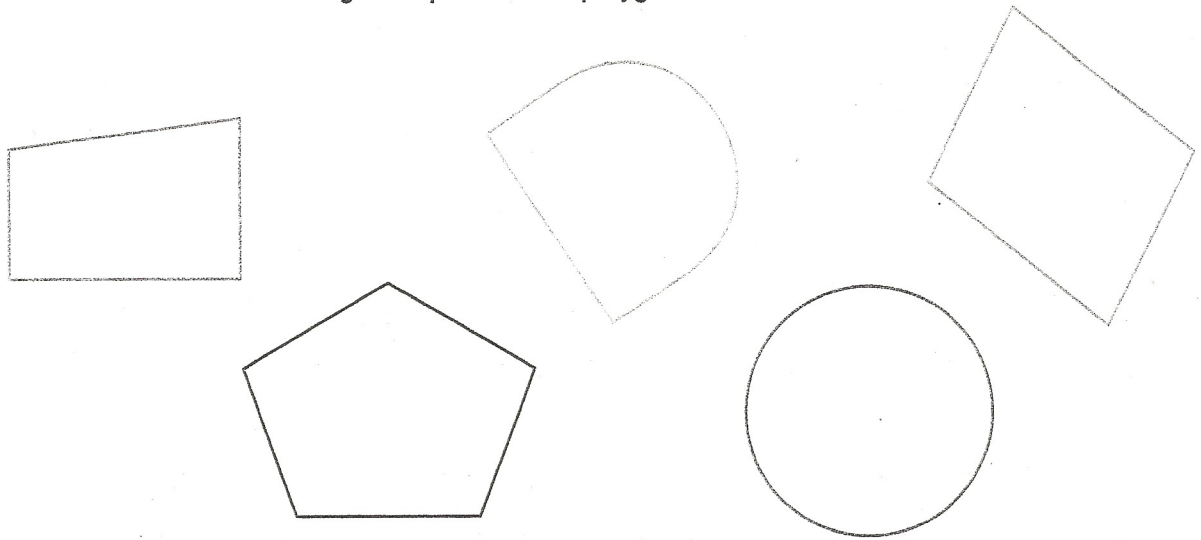
Entoure la bonne proposition.

- 2250 m
- 2300 cm
- 2 km 500 cm
- 2300 m



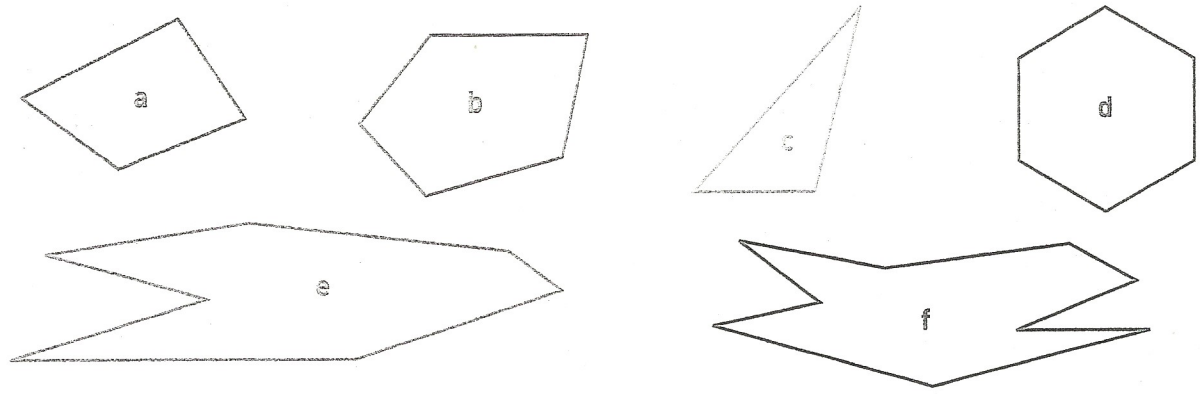
1

Trace une croix dans les figures qui sont des polygones.



2

Observe ces polygones et complète le tableau.



Nombre de côtés	3	4	5	6	7	9
Polygone	.....	.....	.....	.....	.....	.....

Trace le symétrique de la figure ci-dessous par rapport à la droite d

